

CAS: 4. ROČNÍK
 UČIVO: NEJSTARŠÍ ČESKÉ DĚJINY
 ČLOVĚK A JEHO SVĚT - PRACOVNÍ SEŠIT
 PRO 4. ROČNÍK ZŠ





AUTOŘI: Mgr. Aleš Dlouhý
Mgr. Helena Chmelařová

ILUSTRÁTOR: Jarmila Pětiletá

VYSVĚTLIVKY K OBRÁZKŮM



Nalep.



Vystříhni.



Najdi v knihách.



Nakresli, vybarvi.



Udělej za domácí úkol.



Najdi, vylušti, rozlušti.



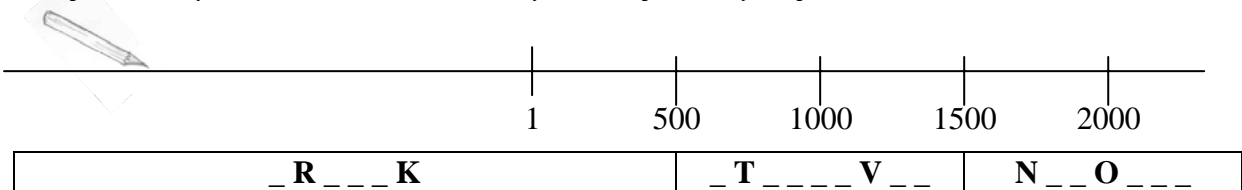
Takto vypadá **náš stroj času!** Stroj, který nás zaneše až na úplný počátek našich dějin. Díky němu se ocitneme v pravěké době ledové (snad ulovíme i mamuta), navštívíme opevněné hradiště keltských bojovníků, uvidíme franského kupce Sáma, s Praotcem Čechem dojdeme do země zaslíbené, předpovíme slávu města Prahy společně s kněžnou Libuší, politujeme krutý konec svatého Václava – patrona České země, získáme královskou korunu společně s přemyslovskými králi, shlédneme největší rozkvět Prahy za dob Karla IV., vyslechneme si kázání Mistra Jana Husa a nepromeškáme husitské bitvy.

Než se však vydáme na cestu, je třeba něco vědět. Pak už jen **držte si čepice, pojedeme z kopce...**

1. Půjdeme mnoho a mnoho tisíců let zpátky, ještě mnohem dál než začíná náš letopočet.

Počátek našeho letopočtu je přesně v roce _____, v tomto roce se totiž podle Bible narodil _____ . Vše před tímto rokem se označuje _____ (př. n. l.), vše po roce 1 označujeme _____.

2. Označ na ose modře vše před naším letopočtem, červeným křížkem počátek letopočtu a zeleně náš letopočet. Žlutým sluníčkem označ současný rok. Doplň názvy etap.



3. Dějiny rozdělujeme do etap. V našem stroji času jsou tyto etapy popisovány šifrou, je tedy jen na vás, abyste je pokaždé rozluštili.

Ale pro pořádek, **historické etapy** jsou tři: _____, _____ a _____.
Dále dělíme dějiny na **staletí a tisíciletí**: Jedno století = _____ let. Jedno tisíciletí = _____ let.
Ale teď popořadě od roku 1. *Doplň čísla v přehledech a barevně vyznač tisíciletí.*

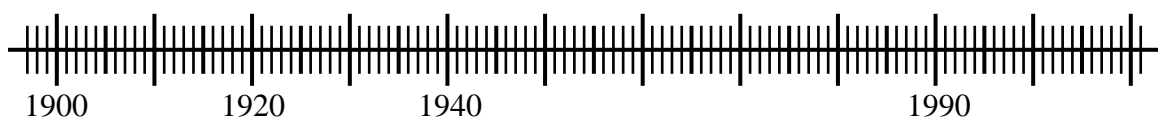
1 - 100 = 1. století
101 - 200 = _ . století
201 - 300 = _____
301 - ____ = _____
401 - ____ = _____
____ - 600 = _____
____ - ____ = _____
____ - 800 = _____
801 - ____ = _____
____ - ____ = _____

1 001 - 1 100 = 11. stol.
1 101 - 1 200 = _____
____ - 1 300 = _____
1 301 - ____ = _____
____ - ____ = _____
1 501 - ____ = _____
____ - 1 700 = _____
1 701 - ____ = _____
____ - ____ = _____
1 901 - 2 000 = _____

2 001 - 2 100 = _____
2 101 - ____ = _____


...
Ve kterém jsme století a tisíciletí?

4. Na číselné ose vyznač roky narození svých blízkých. (svůj, rodičů, prarodičů, sourozenců, psa, kočky, myši...)



ČAS: 1 500 000 let př. n. l. ➡ 5. století př. n. l.

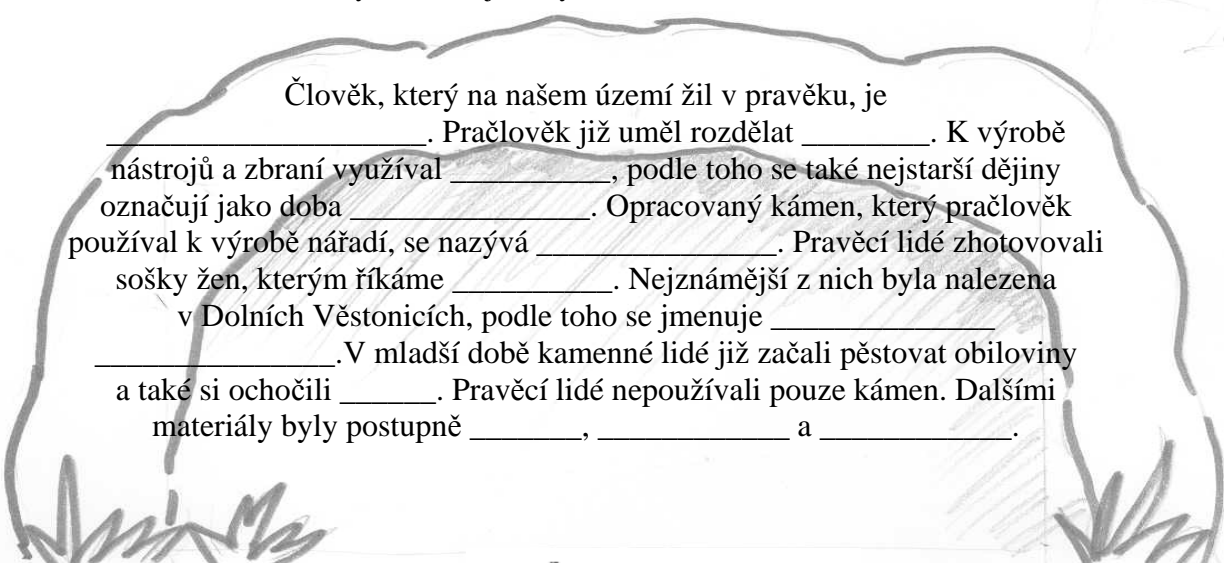
UDÁLOST:



Pravěký život

O životě pravěkých lidí na našem území neexistují žádné písemné záznamy, dovídáme se o nich z archeologických nálezů. Podle objevených nástrojů přišli první lidé na naše území asi 1 500 000 let před naším letopočtem. Tito lidé se od nás stavbou těla ještě drobně odlišovali.

Asi 25 000 let před naším letopočtem, v době, kdy u nás byla poslední doba ledová, žili na našem území tzv. „lovci mamutů“. Ti se od nás již nijak nelišili. Jak název napovídá, živili se hlavně lovem mamutů a dalších velkých zvířat, jako byli koně, sobi nebo bizoni.



Člověk, který na našem území žil v pravěku, je _____ . Pračlověk již uměl rozdělat _____. K výrobě nástrojů a zbraní využíval _____, podle toho se také nejstarší dějiny označují jako doba _____. Opracovaný kámen, který pračlověk používal k výrobě náradí, se nazývá _____. Pravěcí lidé zhotovovali sošky žen, kterým říkáme _____. Nejznámější z nich byla nalezena v Dolních Věstonicích, podle toho se jmenuje _____. V mladší době kamenné lidé již začali pěstovat obiloviny a také si ochočili _____. Pravěcí lidé nepoužívali pouze kámen. Dalšími materiály byly postupně _____, _____ a _____.

1. Najdi, čím se pračlověk živil.

B	R	O	U	C	I	P	Z	Y	M	H
K	Č	E	R	V	I	B	M	A	Z	V
K	O	N	Ě	O	U	O	A	I	R	E
E	K	Ř	P	Ě	S	B	M	B	Y	V
Z	A	J	Í	C	I	U	U	O	D	E
T	N	Y	K	N	I	L	T	S	O	R
Y	T	S	I	L	K	E	I	Í	L	K
K	L	L	A	R	V	Y	Í	N	P	Y

Škrtněš-li všech 14 slov, ze zbylých písmen ti vyjdou dva **pravěké nástroje**: _____ a _____.

2. Pračlověk se tedy živil:


1	2	3	4	5	6	7	8	9
B	R	M	Ě	L	O	V	E	S

9, 1, 4, 2, 8, 3 _____ a

5, 6, 7, 8, 3 _____.



3. Umíš seřadit jednotlivá období pravěku? Příloha č. 1 na str.27



500 000 př. n. l.	
3 000 př. n. l.	
2 000 př. n. l.	
750 př. n. l. až 0	


 **4.** S paní učitelkou/panem učitelem si v knize od **Miloše Macourka** přečti o tom, jak se **Mach a Šebestová** ocitli v době ledové. Popiš, jak ulovili mamuta Mach se Šebestovou a Jonatánem a jak ho lovil pračlověk. _____



Jak se “jejich” pračlověk jmenoval? _____

Kterou nemocí trpěl a proč? _____

 **5.** Najděte v knize **Lovci mamutů** od **Eduarda Štorcha** kapitolu o tom, jak **objevili oheň**. Do rámečku napište jména objevitelů ohně a nakreslete nástroje, kterými oheň vyrobili. 

 **6.** Nakresli **příbytek** pračlověka z **kamenů, klů a zvířecích kůží**. 

7. Sestav obrázek. Příloha č.2 

 **8.** Víš, kdo nakreslil spoustu krásných obrázků z pravěku? **Malíř Zdeněk Burian**. Zkus v knihovně najít knížku, kterou ilustroval. Myslíš, že by tvoji rodiče, prarodiče nebo sourozenci také zvládli nakreslit mamuta? Popros tedy někoho z rodiny, aby ti mamuta nakreslil. 

Na obrázku je _____



8. Pračlověk ještě neznal řeč, proto se dorozumíval skřeky a posunky podobnými pantomimě. Zkusíte se také takto dorozumívat? Sděl něco svým spolužákům pomocí posunků. Pochopili tvoji zprávu?

ČAS: 5. století př. n. l. ➡ 5. století n. l.



UDÁLOST:

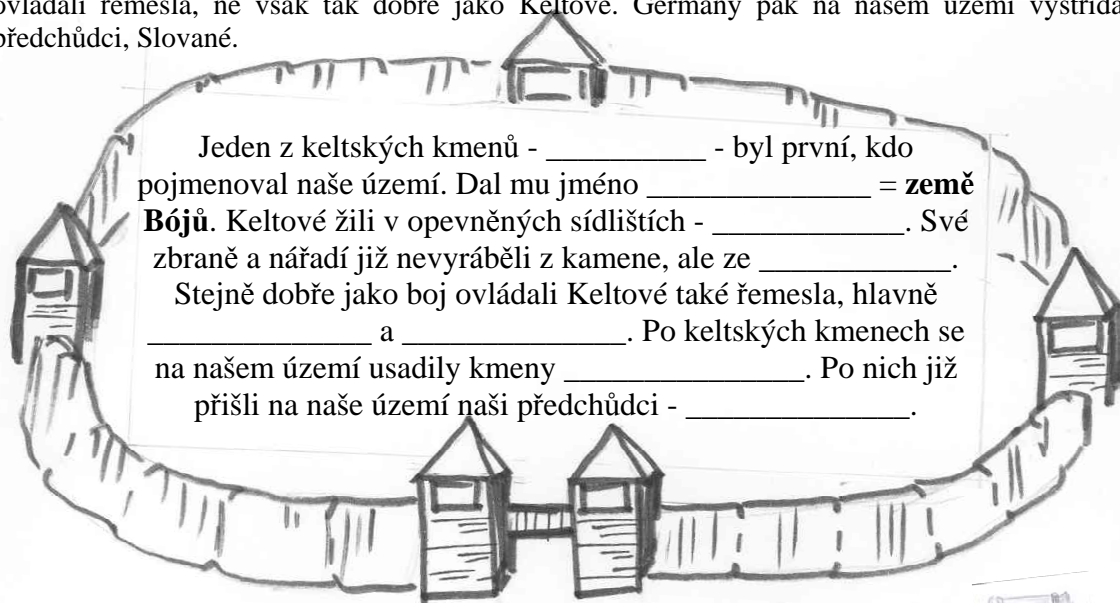
Keltové a Germáni na našem území



V celém období pravěku prošly přes naše území mnohé kmeny a národy. O žádném z nich se nám ale nedochovaly věrohodné zprávy.

Teprve asi 500 let před naším letopočtem začali obývat naše území Keltové. Byli to vynikající bojovníci. Ze svých sídel se vydávali na válečné výpravy široko daleko. Zvuk jejich válečných trub a jejich bojový křik naháněl hrůzu obyvatelům celé Evropy. Keltové vařili všelijaké čarovné nápoje, k čemuž využívali jmelí. Ač od nás již dávno keltské kmeny odešly, zvyk využívat jmelí jako výzdobu např. o Vánocích nám zůstal dodnes.

Někdy na přelomu letopočtu ovládli naše území Germáni. I ti byli vynikající bojovníci a dobře ovládali řemesla, ne však tak dobře jako Keltové. Germány pak na našem území vystřídali naši předchůdci, Slované.

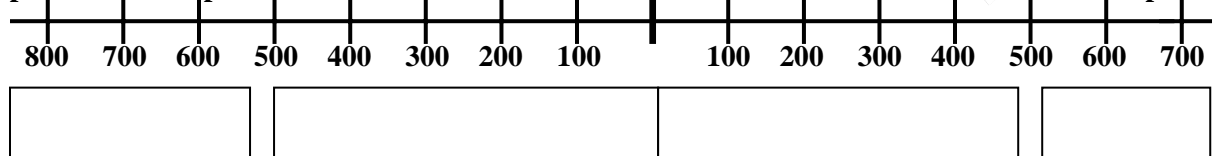


1. Znáš nějaký sportovní klub, který přijal své jméno z této doby? Napiš jeho název.


2. K časové ose přiřaď názvy kmenů, které osidlovaly naše území. Příloha č. 3

před naším letopočtem

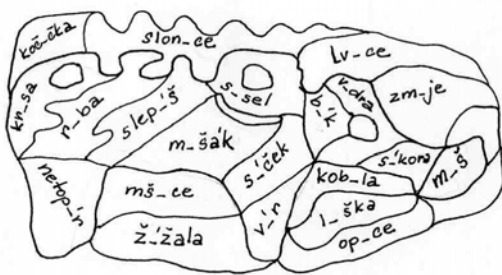
náš letopočet



3. Zdobíte si na Vánoce domov jmelím? Zeptej se maminky nebo babičky, proč.



4. Dopň i/y u názvů zvířat.

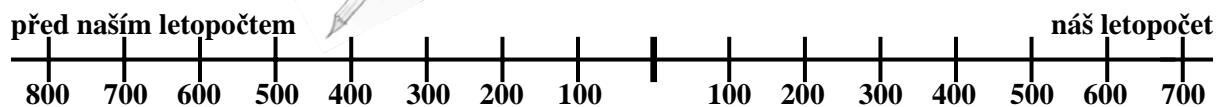


Češtinářská vlastivěda


Všechna políčka s doplněným Y vybarvi černě. Pracuješ-li správně, získáš bronzového kančíka z tohoto období.



5. Na časové ose označ: žlutou hvězdičkou rok 750 př. n. l., modrým mráčkem 400 n. l., růžovým srdíčkem rok 625 n. l. a červeným křížkem narození Ježíše Krista. Další letopočty si s kamarádem diktujte ve dvojicích.



6. Vylušti křížovku. Doplníš-li vše, zasloužíš si jedničku s hvězdičkou..



1. Zvíře, které si člověk ochočil jako první.
2. Posvátná rostlina Keltů.
3. Uměl ho rozdělat i pračlověk.
4. Studené období v pravěku.
5. Opracovaný kámen pračlověka.
6. Přišli z východu.
7. Kmen velkých bojovníků, přišli před Germány.
8. Materiál, který užíval pračlověk při tvorbě nástrojů.
9. Člověk z doby kamenné.
10. Keltové kromě bojovníků byli i vynikající...
11. Soška ženy nalezená u Dolních Věstonic.
12. Opevněné sídliště Keltů.

Tajenka:

Názvem _____ byly označovány národy, které hovořily podobným jazykem, měly **podobná slova**.

Názvem _____ byly označovány ostatní národy, kterým Slované nerozuměli. Neměli jejich slova, **byli pro ně němí**.

Místo pro jedničku:

ČAS: 5. stol. n. l.

UDÁLOST:



Příchod Slovanů

V dávných dobách žili naši předci se svým kmenem v zemi na východě. Nebyli tam však spokojeni, neboť o svou zemi museli neustále bojovat s nepřáteli. Bojovalo se velmi krutě, ne vždy je ochránila opevněná hradiště, která si budovali. Často umírali nejen muži bojovníci, ale i ženy a děti. Není divu, že se jim takové žití nelíbilo. Rozhodli se proto svou zemi opustit a zkusit najít nové místo, kde bude všeho dostatek i bez boje. Vydali se tedy na cestu...

Kdo Slované vedl a kam došli?

R P A T O E C E C H Ć

na O R H U I P R

Z doby příchodu prvních Slovanů se nedochovaly žádné písemné zprávy, a tak si lidé začali vymýšlet své vlastní příběhy. Vystupovala v nich bájná knížata, kněžny, věrná zvířata i nadpřirozené bytosti. Dobro se snažilo vítězit nad _____. Tato vyprávění se dochovala dodnes a nazývají se _____.



A čím se první Slované živili? Kromě _____ zvířete chovali vlastní dobytek a dovedli obdělávat svoji půdu. Pěstovali převážně _____ na výrobu chleba. Byli také velice zruční, vyráběli z keramické hlíny, kovu a tkali plátno.

1. Vymysli, čeho potřebovali lidé dostatek, aby se jim dobře žilo. _____
Čeho bys ke spokojenému životu potřeboval dostatek ty? _____

2. Spoj správně údaje z pověstí a zjistíš, kdo jako první tyto pověsti zapsal. _____

- | | |
|----------------------|-------------------|
| K Libuše | N zradila Ctirada |
| O Šárka | M Šemík |
| I Bivoj | Ř lev |
| Á Brunec | R uměla věštit |
| K Přemysl | O manžel Libuše |
| S Horymír | S Krokovy dcery |
| A Kazi, Teta, Libuše | K nesl kance |



3. Vystříhni a nalep podle časové posloupnosti. Příloha č. 4

Pravěk	_____

Středověk	_____

4. Rozlušti.


1	2	3	4	5	6	7	8	9	10	11	12
d	e	n	m	ě	l	s	i	c	ř	í	z

Slované byli dobří

12, 2, 4, 5, 1, 2, 6, 9, 8 _____ a
10, 2, 4, 2, 7, 6, 3, 11, 9, 8 _____.



5. Najdi v knihovně alespoň dvě knihy o českých pověstech. U každé si zapiš název a autora. Do hodiny slohu si v jedné z nich přečti pověst O Libuši. Ve slohovém cvičení sestavte osnovu pověsti O Libuši (nezapomeňte na uložení lýčených střečků). Rozdělte se do skupin – divadelních společností a nacvičte tuto pověst jako divadelní hru. Ve výtvarné výchově si vytvořte kulisy a kostýmy.



6. Pojmenuj postavy na obrázcích. Poznáš, kdo co řekl?
Chybějící pověsti nakresli obrázek.

- _____ : „Dlouhé vlasy, krátký rozum!“
 _____ : „Pomóóóc, odnáší mě silný Bivoj!“
 _____ : „Vidím město veliké, jehož sláva hvězd se dotýká.“
 _____ : „Ať nás tato země přijme jako pečlivá matka.“
 _____ : „Lýčené střevíce necht' připomenou můj prostý původ.“
 _____ : „Nalíčíme na něj past - tebe, Šárko!“
 _____ : „Chtěl bych se před smrtí projet na svém věrném koni.“



7. Vyber si jednu pověst, nakresli ji jako komiks.



8. Vylušti křížovku a ze zpřeházených písmen v tajence sestav jméno jednoho z **panovnických rodů** na našem trůnu.

1.									
			2.						
			3.						
			4.						
5.									
	6.								
			7.						
			8.						
				9.					
	10.								
11.									



- Krokova dcera, zamilovala se do Bivoje.
 - Dívky ho nalákaly do pasti pomocí Šárky.
 - Krokova dcera, uměla věštit.
 - Vesnice, odkud pocházel Přemysl Oráč.
 - Přeskočil hradby na koni.
 - Statečný kůň.
 - Hora, kam došel praotec Čech.
 - Manžel kněžny Libuše.
 - Třetí Krokova dcera.
 - Silák, unesl kance.
 - Kníže, vybojoval si do znaku lva.
- Tajenka: _____

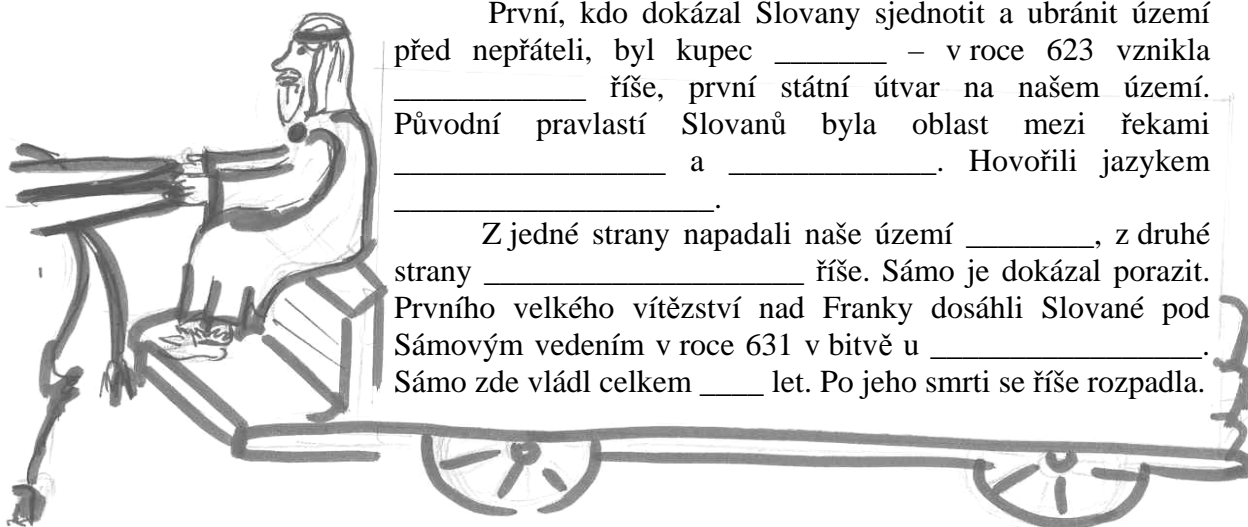
ČAS: 1. polovina 7. století

UDÁLOST:



Sámoova říše

Slované přišli na naše území z východu, odkud je vytlačili velmi silní Hunové. Víme, že Slované se dožívali průměrně 25 let, měli ryšavé vlasy a byli vysocí asi 150 cm. Slované žili v rodech, několik rodů tvořilo kmen a v čele kmene stál kníže. Žili v dřevěných obydlích, která byla částečně zapuštěna do země. Postupně svá obydlí začali opevňovat před nepřáteli a vznikla tak opevněná hradiště.



První, kdo dokázal Slované sjednotit a ubránit území před nepřáteli, byl kupec _____ – v roce 623 vznikla _____ říše, první státní útvar na našem území. Původní pravlastí Slovanů byla oblast mezi řekami _____ a _____. Hovořili jazykem _____.

Z jedné strany napadali naše území _____, z druhé strany _____ říše. Sámo je dokázal porazit. Prvního velkého vítězství nad Franky dosáhli Slované pod Sámovým vedením v roce 631 v bitvě u _____. Sámo zde vládl celkem ____ let. Po jeho smrti se říše rozpadla.

1. Kterého krále Franků porazil kupec Sámo v bitvě u W O _ _ _ T _ _ B _ _ _ U.
Zakroužkuj písmena před správnou odpovědí a zapiš je do tajenky.

- 1, Sámo byl původně S, voják D, kupec M, čaroděj
- 2, Sámo je svou národností A, Frank E, Avar I, Apač
- 3, V bitvě u Wogastisburgu Sámo porazil H, Avary G, Franky K, Apače
- 4, Hovořili jazykem Y, staroslověnštinou A, němčinou O, praslovanštinou
- 5, Slované poprvé sjednotil kupec P, Kámo B, Sámo Ch, Lámo
- 6, Sámoova říše byla E, v 7. století O, v 15. století I, v 5. století
- 7, Slované přišli na naše území z R, východu T, jihu L, západu
- 8, Slované žili v F, tlupách S, kupách T, rodech
- 9, Smrtí Sába říše III. rozkvetla IV. rozrostla se I. rozpadla se

Tajenka:

--	--	--	--	--	--	--	--	--	--	--

2. Začni si zaznamenávat probrané panovníky do **PŘEHLEDŮ VÝZNAMNÝCH PANOVNÍKŮ** na str. 26.

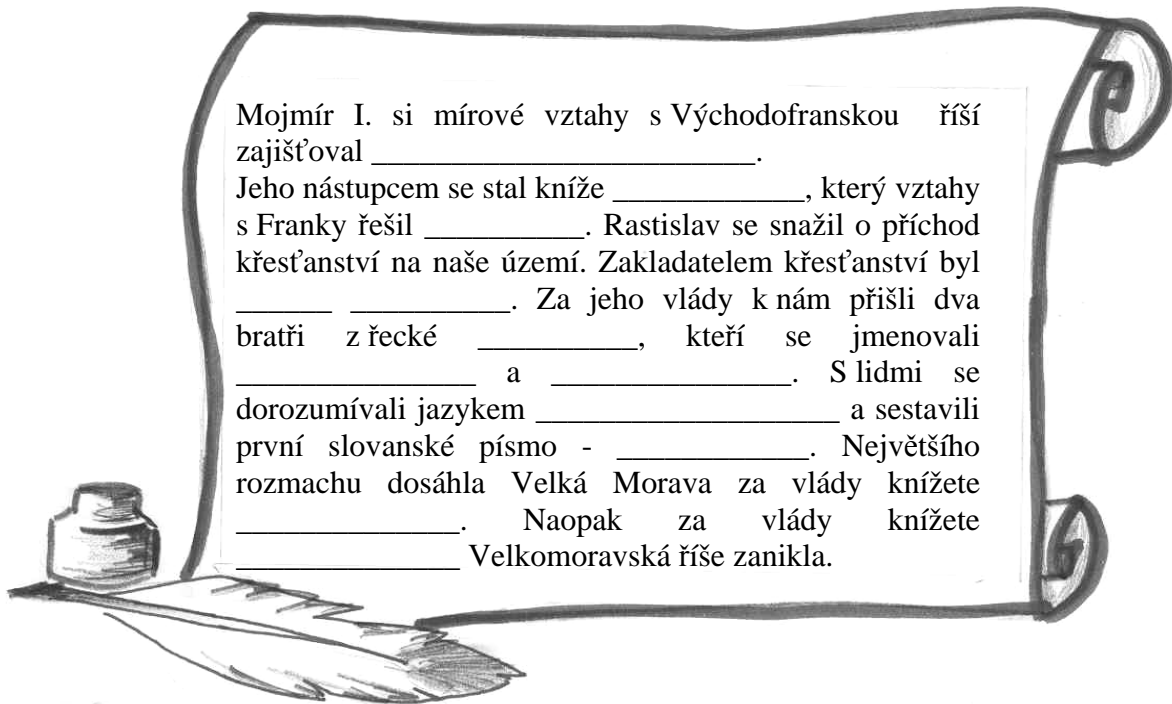
ČAS: 1. polovina 9. stol. ➡ 10. století
UDÁLOST:



Velkomoravská říše

Pod vedením knížete Mojžíra I. a silného kmene Mojžírovců došlo v 9. století ke sjednocení Moravy. Vznikl první skutečný státní útvar na našem území – Velká Morava. Velkomoravská říše zasahovala i do okolních zemí - do Polska, Slovenska, Rakouska i Maďarska.

Nástupcem knížete Mojžíra byl kníže Rastislav. Ten se kvůli vzdělanosti obyvatelstva snažil o příchod nového náboženství na naše území. Proto také vyslal v roce 863 delegaci s dary za byzantským králem Michalem III. s prosbou o pomoc. Michal byl notorický alkoholik, proto se mu také říká Michal Opilec. Ten k nám také poslal dva věrozvěsty.

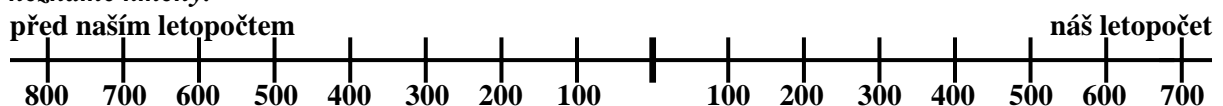


Mojmír I. si mírové vztahy s Východofranskou říší zajišťoval _____.
Jeho nástupcem se stal kníže _____, který vztahy s Franky řešil _____. Rastislav se snažil o příchod křesťanství na naše území. Zakladatelem křesťanství byl _____ za jeho vlády k nám přišli dva bratři z řecké _____, kteří se jmenovali _____ a _____. S lidmi se dorozumívali jazykem _____ a sestavili první slovanské písmo - _____. Největšího rozmachu dosáhla Velká Morava za vlády knížete _____. Naopak za vlády knížete _____ Velkomoravská říše zanikla.



1. Popiš stručně pověst **O Svatoplukovi a třech kopretinách** – kamenech - prutech. Jaké z ní plyne ponaučení?

2. K časové ose přiřpiš názvy kmenů, které osidlovaly naše území – **Slované, Keltové, Germáni, neznámé kmeny.**



3. Vyzkoušej si podle klíče psát **hlaholicí**. Na linku napiš jména dvou věrozvěstů, kteří přišli na Velkou Moravu.

†	Ɱ	Ɱ	Ɱ	Ɱ	Ɱ	Ɱ	Ɱ	Ɱ	Ɱ	Ɱ	Ɱ	Ɱ	Ɱ	Ɱ
A	B	V	H	D	Ě	Ž	DZ	Z	I	J	Ď	K	L	Š

Ɱ	Ɱ	Ɱ	Ɱ	Ɱ	Ɱ	Ɱ	Ɱ	Ɱ	Ɱ	Ɱ	Ɱ	Ɱ	Ɱ	Ɱ
M	N	O	P	R	S	T	U	F	CH	O	F	C	Č	Y

4. Ve výtvarné výchově napiš hlaholicí krásným velkým písmem své jméno a příjmení. Poté uspořádejte výstavu. Zbude-li vám čas, zkuste si s kamarády hlaholicí dopisovat.



5. Zjisti z kalendáře, kdy slavíme **státní svátek** na počest příchodu Konstantina a Metoděje.



6. Vypočítej, kolik let uplynulo od příchodu Konstantina a Metoděje.

7. Najdi v osmisměrce 13 druhů zboží, se kterým se v době Velkomoravské říše čile **obchodovalo**. Ze zbylých písmen doplň tajenku.



Nejvíce nálezů je z okolí

--	--	--	--	--	--	--	--	--	--

M	Y	Š	P	E	R	K	V
O	N	Z	L	A	T	O	T
R	I	B	I	K	S	Ř	K
B	Š	R	O	K	U	E	A
Í	E	A	D	E	M	N	N
Ř	Ž	N	Ě	L	L	Í	I
T	O	Ě	V	Č	Ů	I	N
S	K	C	O	L	K	S	Y



Češtinářská vlastivěda

Z osmisměrky vypiš všechna podstatná jména na linky a doplň jejich rod.

7. Zahraj si doma nebo ve čtveřici se spolužáky Černého Petra. Příloha **ČERNÝ PETR**, na str. 29. Černým Petrem je panovník, který se nechoval vždy čestně. Zkus zjistit, kdo to byl a kterého špatného činu se dopustil.

8. Pamatuješ si ještě postavy z českých pověstí? Doplň-li vše, zasloužíš si jedničku.

Kněžna Libuše a _____. Vlasta přelstila _____ díky _____. Bivoj nesl _____. _____ měl ve znaku lva. Krok měl tři dcery: _____, _____ a _____. Šemík byl _____ kůň. Lech byl bratr _____. Kněžna _____ uměla věštit. Kazi se zamilovala do _____.

Místo pro jedničku:

--

ČAS: 2. polovina 9. stol. ➡ 10. století

UDÁLOST:



Za vlády přemyslovských knížat

V době, kdy Velkomoravská říše dosahovala největšího rozmachu, byly její součástí samozřejmě také Čechy. V nich vládl kmen Čechů, v němž nejsilnějším byl rod Přemyslovců. Přemyslovci odvozovali svůj původ od postav, které známe z pověstí – od kněžny Libuše a Přemysla Oráče.

Prvním skutečně doloženým Přemyslovcem byl kníže _____. Se svou manželkou _____ se nechali pokřtít na dvoře velkomoravského knížete Svatopluka. Vnuk knížete Bořivoje a kněžny Ludmily, kníže _____, byl označen za patrona České země. Aby v zemi udržel mír, dával Němcům každý rok 125 kg stříbra a 125 volů. Ti za tuto cenu neplenili české území. Tato politika se ale nelíbila Václavovu mladšímu bratrovi – knížeti _____. Kníže Boleslav I. odmítl odvádět německému králi poplatek. Začal s nimi válčit. Za vlády syna Boleslava I., knížete _____, došlo v Praze roku _____ k založení pražského _____.


1. Seřad' za sebou podle časové posloupnosti přemyslovská knížata. Zkontroluj výpočet. Příloha č. 5

2. Najdeš minci s patronem České země? Zkus ji nakreslit.

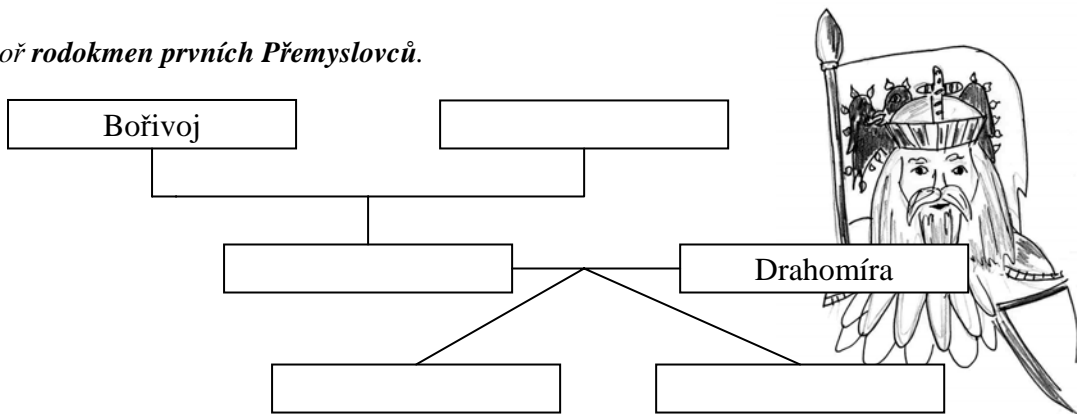
Konec 9. století	29.4
10. století	36.5
	15.7
	21.6
	13.9
11. století	25.5
	38.0



3. Pokus se vytvořit rodokmen své rodiny. Zkus vypátrat co možná nejstarší předky. Třeba jsi z královského rodu...



4. Vytvoř rodokmen prvních Přemyslovců.



5. Doplň chybějící jména.

Svatý _____ byl synem _____ a _____ a vnukem _____ s _____. Hodně se naučil od své milované babičky _____. Tu však nechala zavraždit její snacha _____, aby se zmocnila koruny. Vlady se zachtělo i jeho mladšímu bratrovi _____, který na svém panství ve Staré _____ nechal svého bratra _____ zavraždit. Ostatky svatého Václava a Ludmily jsou dodnes uloženy v chrámu sv. _____ na _____ hradě. Po své smrti byli oba svatořečeni a stali se patrony _____ země.

6. Popiš, jakým způsobem byl zavražděn sv. Václav, a ve skupinkách tento příběh zdramatizujte.

7. Máš dobrou paměť? Zvládneš správně napsat, jak šli za sebou panovníci Velké Moravy?

8. Spoj správně dvojice a zjistíš, jak se jmenovaly první české mince z dob prvních Přemyslovců.

Razily se _ _ _ _ _.

D Bořivoj Á Jitka
N Břetislav E Ludmila
R Oldřich Y Božena



10. Najdi v kalendáři den, kdy sv. Václav slaví svůj svátek. Zjistí, zda je tento den státním svátkem a proč.

11. Vypočítej, kolik let uplynulo od smrti svatého Václava.



12. Zeptej se rodičů, co si myslí o tom, co za dob přemyslovských knížat znamenal tzv. **stařešinský zákon**. Zavedl ho kníže Břetislav.

13. **Rodová příslušnost** – vyškrtni jména osob, která nepatří do rodu Přemyslovců.

Mojmír I., Sv. Václav, Rastislav, Sv. Vojtěch, Boleslav I., Boleslav II., Boleslav IV., Bořivoj, Dagobert I., Oldřich, kupec Sámo, Břetislav, Svatopluk, Konstantin, Vratislav, Mojmír II., Sv. Ludmila, Šemík, Drahomíra.



14. Doplň text a dokresli obrázek.

V průběhu 11. století se nejen ve stavebnictví začal rozvíjet stavební styl dnes nazývaný
Ý K S N Á M O R H O L S

Stavěly se budovy s kruhovým půdorysem, mohutnými zdmi a malými okny. Těmto stavbám říkáme _____.

Nejnámější je rotunda sv. Jiří. Zjistí, kde se nachází. _____

9. Vyber si jednu z pověstí, přečti si ji a zakresli jako komiks.



O Oldřichovi a Boženě
O Břetislavovi a Jitce





ČAS: 10. století ➡ 1306

UDÁLOST:



Přemyslovští králové

Po knížeti Břetislavovi se na českém trůnu vystřídala řada dalších knížat, lepších i horších. Přemyslovci nakonec získali královskou korunu. I země se výrazně proměnila. Vznikla nová vrstva mocných pánů – šlechta. Začaly se stavět pevné a mohutné hrady a také se rozrůstala města. Obyvatelé českých zemí museli panovníkovi odvádět pravidelné daně, královská pokladna tak rychle bohatla. Nejprve u Jihlavy, později i u Kutné Hory, se našla rozsáhlá naleziště stříbra, které bylo největším bohatstvím Čechů.

V polovině 11. století se rozhořel boj mezi papežem a císařem o to, kdo je na světě mocnější. Toho využil kníže _____, který podpořil císaře a roku 1085 byl za to korunován jako první český král. Druhým českým králem se stal jeho vnuk _____. Prvním, kdo získal královský titul dědičně, byl _____. Dědičnost královského titulu byla potvrzena v roce _____ listinou, která se podle zlaté pečeti jmenovala _____.



1. Doplň, zahraj si hru ANO x NE

Po smrti Přemysla Otakara I. vládl jeho syn _____. Dcera Přemysla Otakara I. _____ se odmítla stát panovnicí. Svůj život zasvětila chudým. V Praze založila klášter s **útlukem pro chudé lidi bez domova**. Víš, jak se tento útulek nazýval?

ANO	NE	
Š	O	Bořivoj je 1. historicky doložený Přemyslovec.
K	P	Boleslava I., patrona České země, zavraždil bratr Václav.
I	O	Přemysl Otakar I. byl 1. český král a otec Anežky.
T	L	Oldřich natrvalo připojil k Čechám Moravu.
A	Á	Přemysl Otakar I. je král „železný a zlatý“.
L	K	Václav III. byl poslední Přemyslovec.

2. Najdi názvy **mincí**.
Které jsou z dob vlády
Přemyslovců?
DGERNOÁŠREY

3. Přemysl Otakar II. měl přezdívku **Král „železný a zlatý“**. Zkus najít v knihách proč.

Železný = _____
Zlatý = _____



4. Doplň text.

Po smrti Václava I. se králem stal jeho jediný syn _____.
Brzy získal přívlastek Král _____ a _____. V roce _____ zemřel v bitvě
_____, ve které prohrál s Rudolfem Habsburským.

Po smrti Přemysla Otakara II. se králem stal jeho jediný syn _____. Za vlády
Václava II. se začaly razit nové mince - _____.

Posledním přemyslovským králem na našem trůnu byl _____. Ten byl ale
v roce _____ zavražděn v _____ a Přemyslovci vymřeli po _____.

5. Vybarvi, nakresli.

Znakem Přemyslovců byla černá orlice s červenými plaménky na stříbrném poli. Král Vladislav II.
získal od německého císaře výsadu používat znak stříbrného lva na červeném poli. Tento znak se
později stal **znakem českých králů**.

Vybarvi oba znaky podle předešlé nápovědy.



Zjisti, jaký znak má vaše obec, a nakresli
ho vpravo.



6. Nalep přemyslovské panovníky,
jak šli za sebou. Příloha č.6 na str.27.

Znak českých králů

Znak Přemyslovců



Znak naší obce

K N Í Ž A T A	
K R Á L O V É	

7. Slož si domino, poté si ho zahraj
se svým spolužákem nebo doma
s rodinou. Příloha **PŘEMYSLOVSKÉ DOMINO** na
str. 31.



8. Již u přemyslovských knížat jsme se zmiňovali o stříbře. Zjisti, k čemu ho kníže Václav
potřeboval. Potřeboval také jeden druh dobytka, zjisti který a přesný počet.

Důvodem bylo _____. Druh dobytka: _____, počet _____ ks.

Vlastivědné úlohy: Václav potřeboval _____ kg stříbra = _____ g.

U dobytka spočítej, kolik to bylo přesně nohou _____ a rohů _____.

9. Přemyslovská matematika - *Pečlivě prostuduj tabulku vybraných panovníků. Vypočítej a doplň.* U některých panovníků nejsou určitá data přesně známa, jsou jen přibližná. Proto jsou v různých zdrojích uváděny různé údaje.

Přemyslovská knížata	Život	Žil tedy let	Období vlády	Vládl tedy.....let
Bořivoj	852 – 889		867 – 889	
Václav	907 – 935		921 – 935	
Boleslav I.	915 – 972		935 – 972	
Boleslav II.	929 – 999		972 - 999	
Oldřich	? – 1 035	<i>nelze zjistit</i>	1 012 – 1 034	
Břetislav	1 002 – 1 005		1 035 – 1 055	
Přemysl. knížata	852 –		– 1 055	

*** Pro matematické šikulky**

- Který z přemyslovských knížat vládl nejdéle? _____
- Před kolika lety se narodil první Přemyslovec? _____
- Před kolika lety byl zavražděn sv. Václav? _____
- Kolik bylo Boleslavovi let, když nechal zavraždit svého bratra? _____
- Kdo vládl déle z vnuků Bořivoje a Ludmily a o kolik let? _____
- Vypočítej a napiš za jméno knížete, v kolika letech usedl na trůn. Kdo začal vládnout nejmladší? _____ Kdo jako nejstarší usedl na trůn? _____
- Který panovník vládl v roce 1028? _____
- Který panovník vládl v roce 888 a kolikátý to byl Přemyslovec? _____
- Který uvedený panovník vládl nejkratší dobu? _____
- Za kterého panovníka došlo v roce 995 k vyvraždění Slavníkovců? _____

Přemyslovští králové	Život	Žil tedy let	Období vlády	Vládl tedy.....let
Přemysl Otakar I.	1 155 – 1 230		1 197 – 1 230	
Přemysl Otakar II.	1 233 – 1 278		1 253 – 1 278	
Václav II.	1 271 – 1 305		1 278 – 1 305	
Václav III.	1 289 – 1 306		1 305 – 1 306	
Přemysl. králové	1 155 –			
Přemyslovci celkem	852 –		– 1 _ _ _	

- Který přemyslovský král vládl nejkratší dobu a proč? _____
 - Kterým panovníkem vymřeli Přemyslovci po meči a proč? _____
 - Před kolika lety ukončil svou vládu Václav II.? _____
 - Za kterého panovníka získali Přemyslovci dědičný titul krále roku 1212? Jak se tato listina jmenovala a kolik let od té doby uplynulo? _____
- _____
- Který z přemyslovských králů vládl nejdéle? _____
 - Který přemyslovský král se dožil nejvyššího věku? _____
 - Vládla déle přemyslovská knížata, nebo králové? _____
 - Vyber si jednoho Přemyslovce (krále či knížete) a spočítej, kolik let uplynulo od jeho narození, úmrtí, začátku i konce vlády. Narození _____ let, úmrtí _____ let, začátek vlády _____ let, konec vlády _____ let. Nebude mít v blízké době výročí? **Jak jsem dopadl/a? Zvládl/a jsem odpovědět na _____ otázek.**

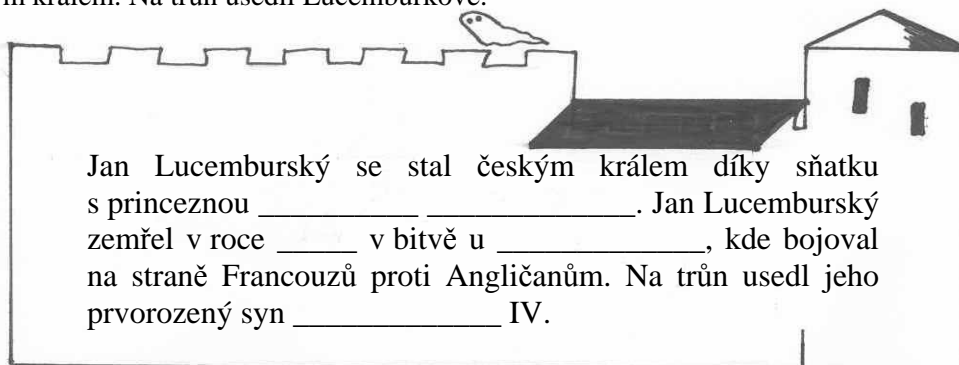
ČAS: 14. století

UDÁLOST:




Lucemburkové na našem trůnu

Po smrti Václava III. neměli Přemyslovci mužského následovníka trůnu – vymřeli po meči. O trůn se začali ucházet manželé českých princezen. V českých zemích zavládl zmatek. V roce 1310 požádala česká šlechta římského císaře, aby si jeho syn Jan vzal princeznu z rodu Přemyslovců. Císaři jeho rozhodování trvalo poměrně dlouho, nicméně Jan Lucemburský se oženil a v roce 1311 se stal novým českým králem. Na trůn usedli Lucemburkové.



1. Vylušti křížovku a dozvíš se, jak byl nazýván Jan Lucemburský. Zkus vymyslet, proč nebo najdi..



1. Jan Lucemb. padl v bitvě u....
2. Druhé přijaté jméno Konstantina.
3. Patron České země.
4. Manželka Jana Lucemburského.
5. Poslední Přemyslovec.
6. První Přemyslovec.
7. Doba v pravěku po d. bronzové.
8. Po čem vymřeli Přemyslovci.
9. Světice, dcera Přemysla Otakara I.
10. Jan Lucemburský byl velký bojovník, později až nerozvážný. Do své poslední bitvy se vrhl, aniž by viděl. Byl tedy....
11. Jakého rodu byl král Jan?


Tajenka: _____

2. Vyzkoušej si svou paměť. Budeš-li mít bez chyby, jednička tě nemine. Doplň správný rod.

Mojmír I.	_____	sv. Václav	_____
Bořivoj	_____	sv. Vojtěch	_____
Rastislav	_____	sv. Ludmila	_____
Boleslav II.	_____	sv. Anežka	_____
Přemysl Otakar I.	_____	Jan Lucem.	_____
Karel IV.	_____	Drahomíra	_____
Svatopluk	_____	Václav III.	_____

Místo pro jedničku:

Místo pro tvůj referát o Karlu IV. Z knih či internetu zjisti vše důležité o životě a vládě Karla IV, kdo byli jeho rodiče, kde byl vychován, jak byl vzdělaný, zda byl ženatý a měl-li následníky trůnu ze svých dětí, jestli byla jeho vláda našim zemím prospěšná a proč. Nalep či nakresli obrázky.



ČAS: __. století,

narodil se _____, zemřel _____

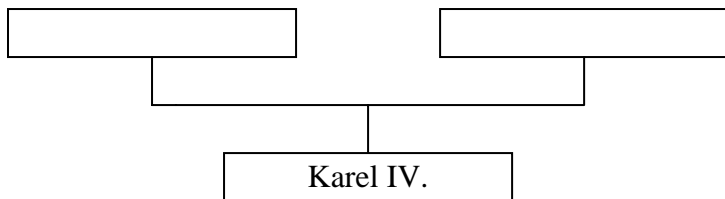


UDÁLOST:



K _____ **IV. - Otec** _____

1. Vyplň rodokmen Karla IV.



Synové panovníci:

[] []

2. Víš, na které české bankovce je Karel IV.? Napiš hodnotu.



3. Zvládneš doplnit ze svého referátu? Nevíš-li, najdeš v knihách.

V roce _____ se Karlovi podařilo povýšit pražské biskupství na _____.
Vyjmenuj všechny tituly, které Karel IV. měl: _____

Karel IV. měl celkem _____ dětí, z toho _____ syny - _____.

4. Poznáš z popleteného textu významné stavby z doby vlády Karla IV.?

stěna, která chce jíst
„štejn“ patřící synovi Elišky Přemyslovny
univerzální škola syna Jana Lucemburského
lávka s pilíři přes řeku patřící otci Václava IV.
nestaré městečko hlavního města
svatý chrám, který nám mává na pozdrav

5. Poznáš popletený životopis?

Karel IV. je nazýván tatínkem země.

Jeho matka byla Ezvíře, které uneslo Budulínka.

Karel IV. měl čtyři kuželky.

Na jeho trůn po sobě usedli dva jeho syslové.

6. Přiřaď správně jména synů Karla IV.

Zikmund Lucemburský
Václav IV.

Za jeho vlády nastaly moc zlé časy – mor a chudoba. Církev utlačovala chudé a bohatla na odpustcích. Proti tomu kázal Mistr Jan Hus.

Šelma ryšavá. Nelíbil se husitům a tak vypukly husitské války. Jeho smrtí vymřeli Lucemburkové po meči.



7. Nakresli pověst O zázračném meči, která se vztahuje ke Karlovu mostu.



[]

8. Lucemburská matematika - Prostuduj tabulku a doplň.

Lucemburští králové	Život	Žil tedy let	Období vlády	Vládl tedy.....let
Jan Lucemburský	1 296 – 1 346		1 310 – 1 346	
Karel IV.	1 316 – 1 378		1 346 – 1 378	
Václav IV.	1 361 – 1 419		1 378 – 1 419	
Zikmund Lucemb.	1 368 – 1 437		1 436 – 1 437	
Lucemb. králové	1 296 –		– 1 437	

Zikmund byl českým králem zvolen dříve, ale v době husitských válek nevládl.

* Pro matematické šikulky

- Který z lucemburských králů vládl nejdéle? _____
- Před kolika lety se narodil poslední Lucemburk? _____
- Který z Lucemburků se dožil nejvyššího věku? _____
- V kolika letech usedl na trůn Otec vlasti? _____
- V kolika letech se „králi cizinci“ narodil první syn? _____
- Kolika let se dožili uvedení synové Karla IV. celkem? _____
- Kolik let uplynulo od smrti Jana Lucemburského? _____
- V kolika letech založil Karel IV. univerzitu (1348)? _____
- Kolik let by bylo Janu Lucemburskému, kdyby se dožil doby, kdy jeho syn nechal postavit Karlův most (1357)? _____
- Kolik let po přiznání dědičného královského titulu Přemyslovcům (1 212) se česká koruna dostala do rukou Lucemburků? _____
- Kdo vládl déle – Přemyslovci nebo Lucemburkové? _____, o _____ let.

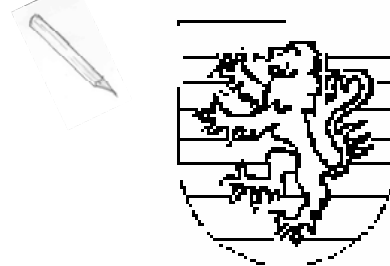
9. Poznáš místo, které je na fotografii? _____



11. Chrám na obrázku byl přestavěn v novém stylu, který se v naší zemi rozmáhal právě za dob vlády Karla IV. v polovině ____ století. Tento stavební sloh se nazývá _____.

Stavěly se velmi vysoké stavby - aby nespadly, museli stavitelé vymyslet opěrný _____.
Dalším znakem je lomený _____ (nakresli ho).

10. Vybarvi znak Lucemburků. Červený lev, v pozadí bílé a modré pruhy.



Nejznámějšími gotickými staviteli u nás jsou _____ a _____.

Matyas z Arrasu
Petr Parler

ČAS: 2. polovina 14. stol. ➡ 1. polovina 15. stol.

UDÁLOST:



Jan Hus - husitské války

Po smrti Karla IV. nastoupil na trůn jeho prvorozený syn Václav IV. Nebyl tak dobrým panovníkem jako jeho otec. Měl problémy se šlechtou i církví. Navíc téměř pětina obyvatel vymřela při silné epidemii moru, která naše země zasáhla. Ani v této chvíli Václav IV. lidem nepomohl. Stejně jak nový král vadila obyčejným lidem i chamtivá církev.



Proti chamtivosti církve začal veřejně vystupovat _____. Vystudoval _____. Kázal v _____ jazyce v _____. Změnil český pravopis, když do něj zavedl _____ a _____. Mistr _____ měl vliv na krále _____, čímž se v roce _____ zasloužil o vydání _____, který změnil hlasovací právo na _____. Německý král _____ pozval Jana Husa do města _____ před _____, aby zde obhájl své názory. Zde byl odsouzen jako _____ a dne _____ upálen. Jeho popel byl vhozen do řeky _____. Den jeho upálení dodnes slavíme jako státní svátek.

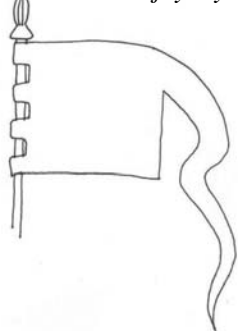
1. Najdi v kalendáři, který den (pondělí, úterý...) budeme letošní rok slavit **státní svátek** na počest Mistra Jana Husa. _____ Kolik let uplynulo od jeho upálení? _____ let

2. Husitské války odstartovala v červnu roku _____. První pražská _____. Nakresli ji.



3. Popiš vozovou hradbu.

4. Nakresli do vlajky symbol husitů - _____.



5. Doplň text.

Na počátku roku _____ založili husité město _____, kde si byli všichni rovni a říkali si _____. Nejslavnějším vojevůdcem husitských vojsk byl _____.

6. Vystřihni obrázky husitských zbraní a nalep je k příslušným názvům. Příloha č. 7 na str. 28.

KUŠE

PALCÁT

TARASNICE



ŘEMDIH

HOUFNICE

KROPÁČ

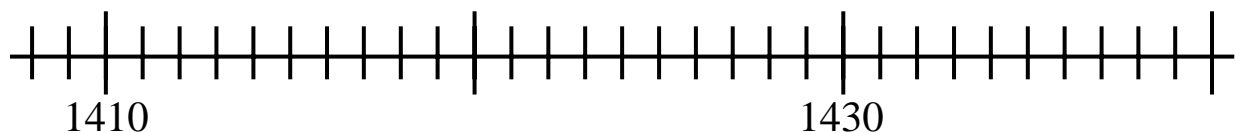
SUDLICE

7. S pomocí paní učitelky/pana učitele vyber požadavky, které husité formulovali ve 4 artikulích pražských.

Odstoupení krále Odebrání církevního majetku Spravedlivé tresty za hříchy
Přijímání pod obojí Svobodné kázání a svobodný výklad bible Zákaz zpěvu a tance
Rozdělení pozemků šlechty obyčejným lidem

8. Zeleně vyznač na časové ose slavné bitvy husitů, v nichž vždy porazili výpravy křížáků, červeně vyznač bitvu, kterou husité prohráli. Uvedená města najdi na mapě.

- 1420 u Sudoměře a na Vítkově
- 1424 u Malešova a Přibyslavi
- 1426 u Ústí nad Labem
- 1427 u Tachova
- 1431 u Domažlic
- 1434 u Lipan



9. Doposud jsme nezmínili jednu významnou osobnost, která do doby husitství patří. Je to **Jiří z Poděbrad**. Vyškrtej v osmisměrce 11 slov a jedno datum z dob husitství a zjistíš, jakou přezdívku měl. Najdi v knihách proč.

H	K	U	H	I	D	M	E	Ř
V	P	O	D	O	B	O	J	Í
E	Y	A	S	S	I	K	T	C
K	N	V	P	T	S	A	K	A
R	A	T	Ý	E	N	L	K	K
Í	P	I	R	Á	Ž	I	6.	7.
C	I	B	H	U	S	^{CH}	C	L
Y	L	U	K	I	T	R	A	E


Češtinářská vlastivěda: nalezená slova vypiš a napiš za ně

vzor: _____

Tajenka: _____, protože _____.

10. Poslechněte si s paní učitelkou/panem učitelem **husitskou píseň KTOŽ SÚ BOŽÍ BOJOVNÍCI**. Můžete si ji zazpívat. Věděli jste, že píseň vyhrála husitům bitvu? Zkuste vymyslet, jak to tenkrát bylo.

Tato stránka ti poslouží jako **PŘEHLED VÝZNAMNÝCH PANOVNÍKŮ**
 Vždy po probrané kapitole si na linky postupně zaznamenávej probrané panovníky a jejich činy.
 Každého panovníka podtrhni jinou barvičkou a tou samou barvou označ na ose období, kdy panoval. Uvidíš, že díky přehlednosti se ti vše bude dobře pamatovat.




Nápady k **HRACÍM OBRÁZKŮM** na straně 32: Podle návodu si vyrob kartičky. Ke každé kapitole dějin je jeden obrázek, můžeš je řadit za sebou podle časové posloupnosti, společně s kamarádovými si zahrát pexeso nebo paní učitelka/pan učitel či spolužák může diktovat události a ty podle toho obrázky zvedat. Lze také z kartiček losovat kapitolu, kterou budete opakovat. Na spoustu dalších věcí určitě přijdete sami nebo s paní učitelkou či panem učitelem.

OPAKOVÁNÍ S BOJEM O DRAHÉ KAMENY DO KRÁLOVSKÝCH KLENOTŮ

Vždy po probraném celku si nanečisto zkus odpovědět na všechny otázky. Černobílých drahých kamenů si prozatím nevšímej – boj o ně ještě nevypukl. Teprve až dá paní učitelka/pan učitel povel, vezmi si tužku a papír a na otázky z předem určené kapitoly písemně odpověz. Poté společně zkontrolujte a vybarvi si kamínek u otázky, na kterou jsi zvládl správně odpovědět.

I po „získání“ kamenů trénuj, stále se k otázkám vracej a oživuj si tak svou paměť. Až přijde čas, tvá pilná příprava ti přijde vhod.



Boj o safíry – České země v době pravěku

1. Čím byl významný rok 1?
2. Jaké znáš historické etapy dějin?
3. Jaké znáš archeologické nálezy z pravěku?
4. Jak se živil pračlověk?
5. Jaké byly doby v pravěku?
6. Co je to oppidum?
7. Jaká byla posvátná rostlina Keltů?
8. V čem Keltové vynikali?
9. Jak vznikl název naší země Bohemia?
10. Jaké kmeny byly na našem území v pravěku?

Boj o ruženiny – Příchod Slovanů a první říše na našem území

1. Kdo sídlil v naší zemi před příchodem Slovanů?
2. Kdo přivedl Slovanů k nám a kam došli?
3. Kdo byla kněžna Libuše a proč nemohla dál vládnout?
4. Co jsou to pověsti a kdo je sepsal jako první?
5. Čím se živili Slované?
6. Jak se nazývala první říše na našem území?
7. Který rod vládl na Velké Moravě?
8. Kdo založil Velkomoravskou říši?
9. Kdo pozval věrozvěsty, odkud a proč?
10. Kdy věrozvěstové přišli?
11. Jaký jazyk a písmo věrozvěstové přinesli?

Boj o diamanty – Přemyslovská knížata

1. Kdo byl zakladatel rodu Přemyslovců podle pověsti a kdo podle doložených zpráv?
2. Jak se jmenovali synové Vratislava I.? Proč mladší neměl rád staršího a co mu udělal?
3. Jak získal Břetislav svou manželku a jak se jmenovala?
4. O co se zasloužil kníže Oldřich?
5. Kdo je označován patronem České země a proč?
6. Koho nechala zavraždit Drahomíra a proč?
7. Kdo byla Božena a jakého byla původu?
8. Koho učila sv. Ludmila a proč je svatá?
9. Jak zamezil Břetislav bojům o český trůn?

Boj o rubíny – Přemyslovští králové

1. Jak se jmenovala dcera Přemysla Otakara I. a proč byla svatořečena?
2. Kdo získal pro Čechy dědičně královskou korunu, kdy, jak se tato listina jmenovala?
3. Jakého rodu byl sv. Vojtěch a co se s jeho rodem stalo?
4. Kdo byl „Král železný a zlatý“ a proč?
5. Kde padl Přemysl Otakar II.?
6. Jaké peníze se razily za Václava II.?
7. Kde se těžilo stříbro?
8. Proč vymřeli Přemyslovcé?
9. Co znamená vymření rodu po meči?

Boj o olivíny - Lucemburkové

1. Kdo byl první Lucemburk a koho si vzal?
2. Jak byl Jan Lucemb. přezdíván a proč?
3. Co přinesl Dekret Kutnohorský?
4. Kdo je Otec vlasti a proč?
5. Kdo byli rodiče Karla IV.?
6. Kde byl Karel IV. vychováván?
7. Kolik měl Karel IV. manželek a významných synů?
8. Které památky nechal Karel IV. postavit?
9. Proč se stavěla hladová zeď?
10. Jaká škola byla za Karla IV. založena?
11. Jak vládl Václav IV. a čím to byl syn?
12. Kdo byl přezdíván „Liška ryšavá“ a proč?

Boj o drahokamy – Mistr Jan Hus a husitství

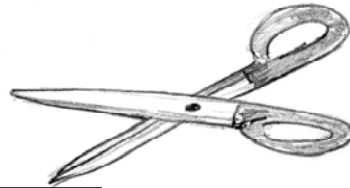
1. Kde kázal Mistr Jan Hus?
2. Co se nelíbilo Husovi na církvi?
3. Co byly odpustky?
4. Co byl symbol husitů a proč?
5. Kdo to byl kacír?
6. Znáš jména tří husitských zbraní?
7. Kdy, kde a jak skončil život Jana Husa?
8. Za jakého Lucemburka propukly husitské války?
9. Jakou událostí husitské války vypukly?
10. Kdo byl husitským králem a proč?
11. Jak se jmenovalo město husitů a jejich vůdce?
12. Ve které bitvě byli husité poraženi?

Jste na konci putování, probrali jste naše celé nejstarší dějiny. Zkuste s paní učitelkou/panem učitelem uspořádat soutěž – znovu odpovědět na všechny otázky. Třeba vás za to čekají jedničky...

PŘÍLOHY K VYSTŘÍŽENÍ

Příloha č. 5

Oldřich	125	Bořivoj	116
Boleslav II.	117	Břetislav	0
Boleslav I.	126	Václav	105
Vratislav	180		



Příloha č. 6

Oldřich	Václav
Boleslav I.	Bořivoj
Václav I.	Václav III.
Přemysl Otakar II.	Boleslav II.
Břetislav	Přemysl Otakar I.
Václav II.	

Příloha č. 7



Příloha č. 1

Doba železná
Mladší doba kamenná
Doba bronzová
Starší doba kamenná

Příloha č. 2



Příloha č. 3

Keltské kmeny
Neznámé kmeny
Slované
Germánské kmeny


Příloha č. 4

Germánské kmeny
Neznámé kmeny
Keltské kmeny
Slované

Volná stránka z druhé strany příloh k vystižení.



ČERNÝ PETR (Příchod Slovanů, Velkomoravská říše)
Lze hrát i jako **PEXESO**, stačí odložit kartu Černého Petra.



Ctirad	Krokovy dcery	Věštit	Libušin manžel	Vesnice, kde Přemysla našli
Šárka	Kazi, Teta, Libuše	Schopnost Libuše	Přemysl Oráč	Stadice
Horymír	Bivoj	Vlasta	Lech	Náboženství s více bohy
Šemík	Kanec	Vedla dívčí válku	Bratr Čecha	Pohanství
Náboženství s jedním bohem	Kronikář	Kníže Svatopluk	Kníže Rastislav	Cyril (Konstantin)
Křesťanství	Kosmas	Tři synové	Pozval věrozvěsty	Metoděj
Hlaholice	První písmo	Příchod věrozvěstů	5. 7. 863	Boleslav I.

Kartičky rozstříhej a nalep na trochu větší karty z tvrdého papíru, může být i barevný.


Volná stránka z druhé strany černého Petra

PŘEMYSLOVSKÉ DOMINO

Přemyslovci	sv. Václav	unesl Jitku z německého kláštera	Oldřich
patron České země	zavražděn bratrem Boleslavem I.	natrvalo připojil Moravu k Čechám	měl za manželku Boženu
učila ho babička Ludmila	sv. Ludmila	byla prostého původu	Přemysl Otakar I.
zavražděna Drahomírou	manželka Bořivoje	získal Zlatou bulu sicilskou	významný rok 1 212
babička sv. Václava	Boleslav I.	otec sv. Anežky	sv. Anežka
chtěl trůn, nechal zavraždit svého bratra	Boleslav II.	světice, starala se o chudý lid	Přemysl Otakar II.
vyvraždil rod Slavníkovců	rod Slavníkovců	Král železný a zlatý	Václav III.
sv. Vojtěch, opat Sázavského kláštera	Břetislav	poslední Přemyslovec	vymřeni Přemyslovců po meči

Vystřihni podle silné čáry, nalep na čtvrtku (můžeš barevnou), pak rozstříhej na jednotlivé kartičky. Poté slož za sebou historii Přemyslovců nebo hraj s kamarádem.

HRACÍ OBRÁZKY
Vybarvi obrázky, vystřihni je a nalep na stejně velké kartičky ze čtvrtky.



Volná stránka z druhé strany domina a obrázků.